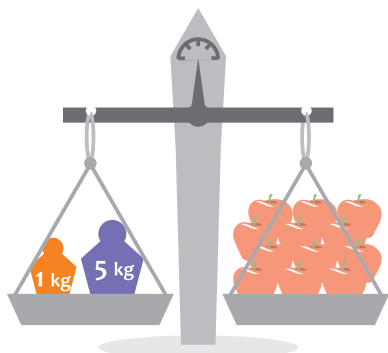


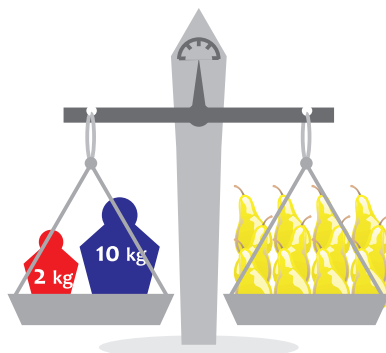
Karta pracy nr 2

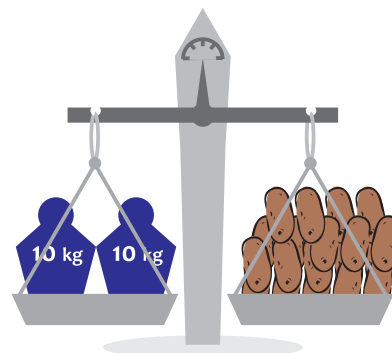
Klasa 2 - maj - blok 2 - dzień 4

Zadanie 1

Wpisz w kratki, ile ważą leżące na wadze towary.







Zadanie 2

Jakimi odważnikami zważysz?

14 dag -

25 dag -

64 dag -

37 dag -

78 dag -

93 dag -

Zadanie 3

Jeżeli ciastka ważą 25 dag, a cukierki 15 dag, to ile razem ważą te produkty?

Rozwiązanie

 dag +

 dag =

 dag

Odpowiedź

Karta pracy nr 2

Klasa 2 - maj - blok 2 - dzień 4

Zadanko Liczmanka

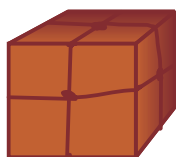
Pomyśl i wpisz, ile waży każda z paczek:



Paczka A



Paczka B



Paczka C

